

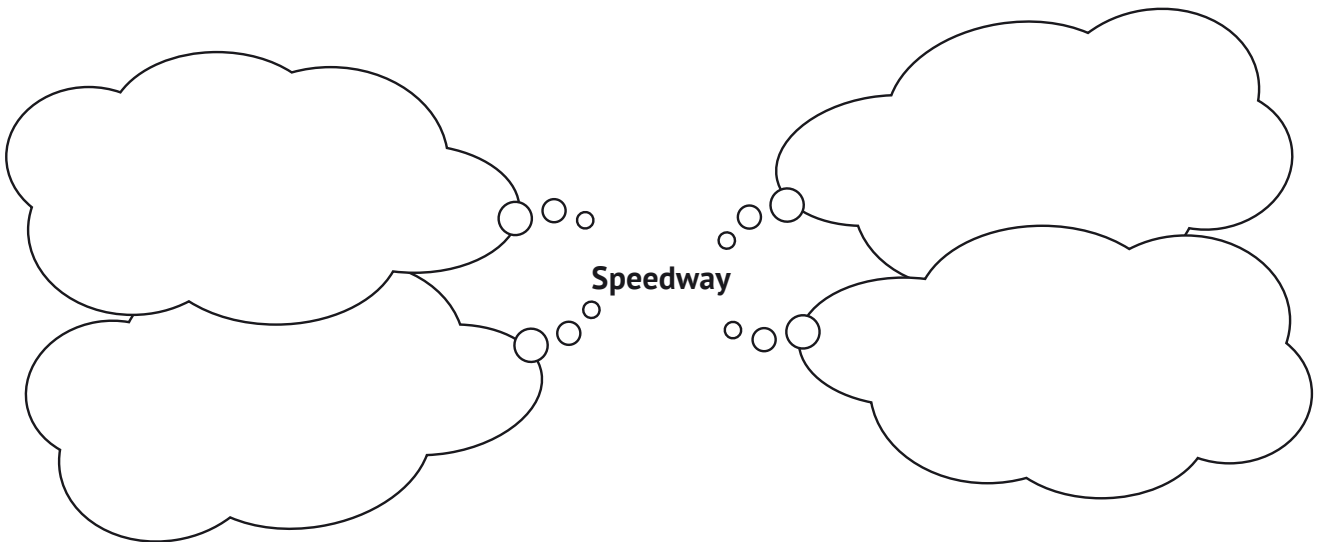
Aufgaben



Speedway

Bevor du liest

An welche Wörter denkst du, wenn du das Wort „Speedway“ liest?



Sieh dir die Vorderseite an.

Schreib, was du auf der Vorderseite des Buches sehen kannst.

Aufgaben

Was steht auf der Rückseite? Worüber kannst du etwas im Buch lesen?

Vollende die Sätze:

Speedway

Man fährt

Ole Olsen

Er gewann

Kannst du ein Inhaltsverzeichnis lesen und dich im Buch zurechtfinden?

Lies das Inhaltsverzeichnis und schreib auf, wie die Kapitel heißen.

„Lies mehr und Stichwörter“ ist kein Kapitel.



Aufgaben

Worüber kannst du etwas auf Seite 6 lesen?

Auf welcher Seite kannst du Stichwörter finden?

Mach einen um die richtigen Stichwörter.

Australien Rennen Bahn Gang Heat Mitglied Club Micro


Motor Sport Motorrad Ole Olsen Ausrüstung Kim Larsen WM

Während du liest

Lies die Seiten 4 kannst du Fakten über Speedway lesen.

Antworte nun auf die Fragen.

Was ist Speedway?



In welchem Land begann alles mit dem Speedway-Sport? In welchem Jahr war das?

Wann ging es in Dänemark los?

Was steht in der Infobox auf Seite 5?

Aufgaben

Erzähl etwas über das Motorrad.

Motor und Gänge		Bremsen und Gewicht
-----------------	--	---------------------

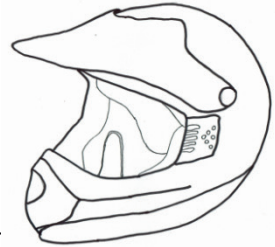
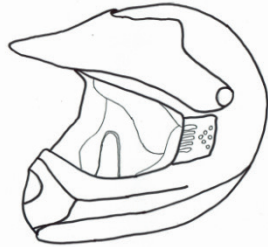
Speedway-Ausrüstung.

Aufgaben


Die Farbe des Helmes hat eine Bedeutung.

Male die Helme an und schreib, ob sie dem Heimteam oder dem Auswärtsteam gehören.



Die Speedway-Bahn.

Welche Form hat sie? Länge? Wie viele Runden fährt man in einem Rennen?



Wie nennt man ein Rennen?

Wie lange dauert es?

Wie werden die Punkte verteilt?

Wer baute Dänemarks erste Speedwaybahn? Wie heißt er?

Wofür ist er auch bekannt?



Aufgaben

Nachdem du gelesen hast

Lies mehr und Stichwörter.

Wie heißen die Buchtitel der zwei Bücher, in denen du mehr über Speedway lesen kannst?

Welches Suchwort musst du gebrauchen, um Videos über Speedway auf YouTube zu finden?

Kannst du ausrechnen, wer gewinnt?

Hier siehst du vier Speedwayfahrer.

Sie müssen fünf Heats fahren.

In der Tabelle siehst du ihre Platzierung in jedem Heat.

Lies über die Punkteverteilung auf Seite 10.

Zähl die Punkte der Fahrer zusammen.



Fahrer und Platzierung	1. heat	Punkte	2. heat	Punkte	3. heat	Punkte	4. heat	Punkte	5. heat	Punkte	Gesamtpunkte
Nr. 52	4		1		3		3		1		
Nr. 20	1		4		2		1		2		
Nr. 27	3		2		1		2		4		
Nr. 6	2		3		4		4		3		

Welche Nummer gewinnt?
